

1/12/2021

# Work Sheet

## I Divide

a)  $29 \div 29 =$

b)  $0 \div 9 =$

c)  $45 \div 5 =$

d)  $36 \div 6 =$

e)  $24 \div 3 =$

## II Make a Tally Chart

a) ☆ ☆ ☆

Number

Tally Marks

b) ☆ ☆ ☆ ☆ ☆ ☆

c) ☆ ☆ ☆ ☆ ☆  
☆ ☆ ☆ ☆ ☆

d) ☆ ☆ ☆ ☆ ☆ ☆ ☆

e) ☆

f) ☆ ☆ ☆ ☆ ☆ ☆ ☆ ☆



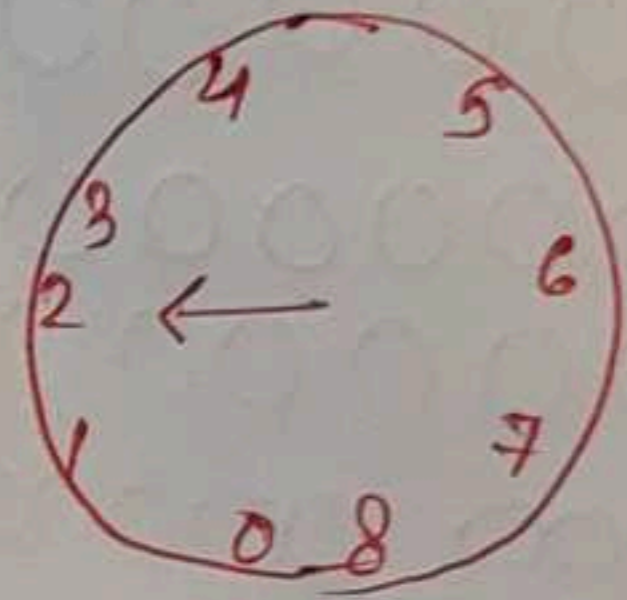
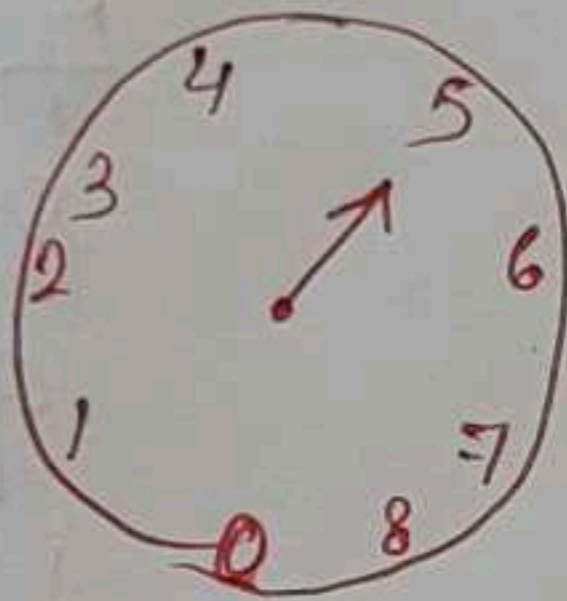
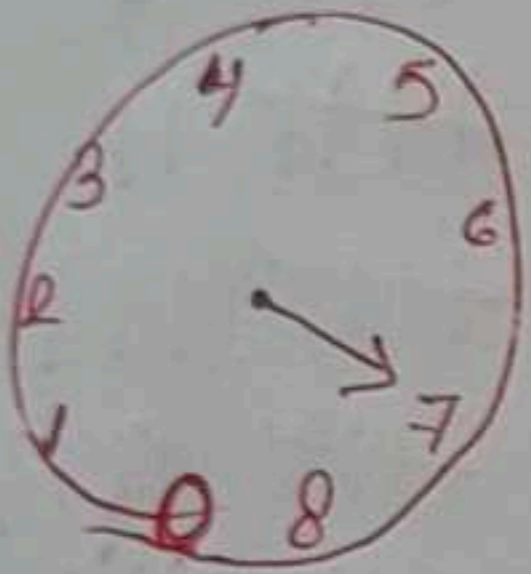
III Add or Subtract

a)  $25\text{ L } 405\text{ ml} + 10\text{ L } 107\text{ ml}$

b)  $78\text{ kg } 67\text{ g} - 11\text{ kg } 110\text{ g}$

c)  $12\text{ m } 34\text{ cm } 14\text{ m } 10\text{ cm}$

IV Write the weight in kg.



Write the name of 5 objects we can measure in metres.